

2009 年统考计算机考研真题	1
一. 单项选择题, 每小题 2 分, 共 80 分.	1
二. 综合应用题. 共 70 分.	5
2009 年计算机统考真题参考答案	9
一. 选择题	9
二. 综合应用题	21
2010 年全国研究生考试计算机统考试题及答案	24

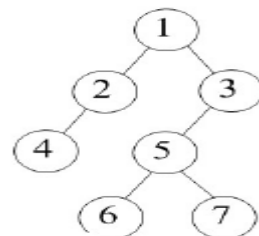
2009 年统考计算机考研真题

一. 单项选择题, 每小题 2 分, 共 80 分。

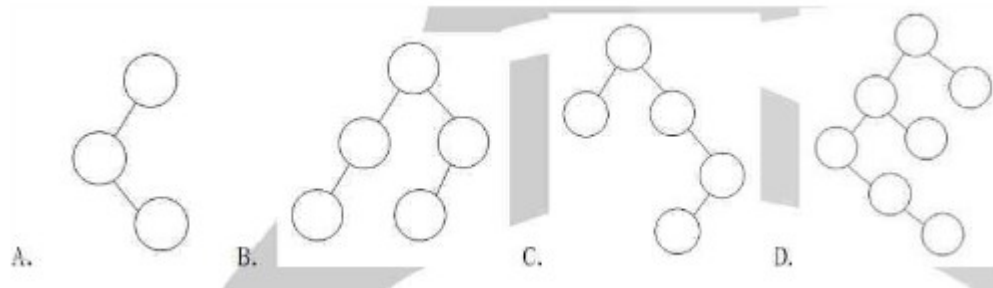
1. 为解决计算机与打印机之间速度不匹配的问题, 通常设置一个打印数据缓冲区, 主机将要输出的数据依次写入该缓冲区, 而打印机则依次从该缓冲区中取出数据。该缓冲区的逻辑结构应该是
A. 栈 B. 队列 C. 树 D. 图

2. 设栈 S 和队列 Q 的初始状态均为空, 元素 abcdefg 依次进入栈 S。若每个元素出栈后立即进入队列 Q, 且 7 个元素出队的顺序是 bdcfeag, 则栈 S 的容量至少是 A. 1 B. 2 C. 3 D. 4

3. 给定二叉树图所示。设 N 代表二叉树的根, L 代表根结点的左子树, R 代表根结点的右子树。若遍历后的结点序列为 3, 1, 7, 5, 6, 2, 4, 则其遍历方式是 A. LRN B. NRL C. RLN D. RNL



4. 下列二叉排序树中, 满足平衡二叉树定义的是



5. 已知一棵完全二叉树的第 6 层 (设根为第 1 层) 有 8 个叶结点, 则完全二叉树的结点个数最多是
A. 39 B. 52 C. 111 D. 119

6. 将森林转换为对应的二叉树, 若在二叉树中, 结点 u 是结点 v 的父结点的父结点, 则在原来的森林中, u 和 v 可能具有的关系是 I. 父子关系 II. 兄弟关系 III. u 的父结点与 v 的父结点是兄弟关系
A. 只有 II B. I 和 II C. I 和 III D. I、II 和 III

7. 下列关于无向连通图特性的叙述中, 正确的是

- I. 所有顶点的度之和为偶数 II. 边数大于顶点个数减 1 III. 至少有一个顶点的度为 1
 A. 只有 I B. 只有 II C. I 和 II D. I 和 III

8. 下列叙述中, 不符合 m 阶 B 树定义要求的是

- A. 根节点最多有 m 棵子树 B. 所有叶结点都在同一层上
 C. 各结点内关键字均升序或降序排列 D. 叶结点之间通过指针链接

9. 已知关键序列 5, 8, 12, 19, 28, 20, 15, 22 是小根堆 (最小堆), 插入关键字 3, 调整后得到的小根堆是

- A. 3, 5, 12, 8, 28, 20, 15, 22, 19
 B. 3, 5, 12, 19, 20, 15, 22, 8, 28
 C. 3, 8, 12, 5, 20, 15, 22, 28, 19
 D. 3, 12, 5, 8, 28, 20, 15, 22, 19

10. 若数据元素序列 11, 12, 13, 7, 8, 9, 23, 4, 5 是采用下列排序方法之一得到的第二趟排序后的结果, 则该排序算法只能是

- A. 起泡排序 B. 插入排序 C. 选择排序 D. 二路归并排序

11. 冯·诺依曼计算机中指令和数据均以二进制形式存放在存储器中, CPU 区分它们的依据是 A. 指令操作码的译码结果 B. 指令和数据的寻址方式

- C. 指令周期的不同阶段 D. 指令和数据所在的存储单元

12. 一个 C 语言程序在一台 32 位机器上运行。程序中定义了三个变量 xyz, 其中 x 和 z 是 int 型, y 为 short 型。当 x=127, y=-9 时, 执行赋值语句 z=x+y 后, xyz 的值分别是

- A. X=0000007FH, y=FFF9H, z=00000076H
 A. X=0000007FH, y=FFF9H, z=FFFF0076H
 A. X=0000007FH, y=FFF7H, z=FFFF0076H
 A. X=0000007FH, y=FFF7H, z=00000076H

13. 浮点数加减运算过程一般包括对阶、尾数运算、规格化、舍入和判溢出等步骤。设浮点数的阶码和尾数均采用补码表示, 且位数分别为 5 位和 7 位 (均含 2 位符号位)。若有两个数 $X=27 \times 29/32$, $Y=25 \times 5/8$, 则用浮点加法计算 X+Y 的最终结果是

- A. 00111 1100010 B. 00111 0100010
 C. 01000 0010001 D. 发生溢出

14. 某计算机的 Cache 共有 16 块, 采用 2 路组相联映射方式 (即每组 2 块)。每个主存块大小为 32 字节, 按字节编址。主存 129 号单元所在主存块应装入到的 Cache 组号是

- A. 0 B. 2 C. 4 D. 6

15. 某计算机主存容量为 64KB, 其中 ROM 区为 4KB, 其余为 RAM 区, 按字节编址。现要用 $2K \times 8$ 位的 ROM 芯片和 $4K \times 4$ 位的 RAM 芯片来设计该存储器, 则需要上述规格的 ROM 芯片数和 RAM 芯片数分别是

- A. 1、15 B. 2、15 C. 1、30 D. 2、30

16. 某机器字长 16 位, 主存按字节编址, 转移指令采用相对寻址, 由两个字节组成, 第一字节为操作码字

段，第二字节为相对位移量字段。假定取指令时，每取一个字节 PC 自动加 1。若某转移指令所在主存地址为 2000H，相对位移量字段的内容为 06H，则该转移指令成功转以后的目标地址是

A.2006H B.2007H C.2008H D.2009H

17.下列关于 RISC 的叙述中，错误的是

- A. RISC 普遍采用微程序控制器
- B. RISC 大多数指令在一个时钟周期内完成
- C. RISC 的内部通用寄存器数量相对 CISC 多
- D. RISC 的指令数、寻址方式和指令格式种类相对 CISC 少

18.某计算机的指令流水线由四个功能段组成，指令流经各功能段的时间（忽略各功能段之间的缓存时间）分别是 90ns、80ns、70ns 和 60ns，则该计算机的 CPU 时钟周期至少是

A. 90ns B.80ns C.70ns D.60ns

19.相对于微程序控制器，硬布线控制器的特点是

- A. 指令执行速度慢，指令功能的修改和扩展容易
- B. 指令执行速度慢，指令功能的修改和扩展难
- C. 指令执行速度快，指令功能的修改和扩展容易
- D. 指令执行速度快，指令功能的修改和扩展难

20.假设某系统总线在一个总线周期中并行传输 4 字节信息，一个总线周期占用 2 个时钟周期，总线时钟频率为 10MHz，则总线带宽是

A. 10MB/s B.20MB/S C.40MB/S D.80MB/S

21.假设某计算机的存储系统由 Cache 和主存组成，某程序执行过程中访存 1000 次，其中访问 Cache 缺失（未命中）50 次，则 Cache 的命中率是

A. 5% B.9.5% C.50% D.95%

22.下列选项中，能引起外部中断的事件是

A. 键盘输入 B.除数为 0 C.浮点运算下溢 D.访存缺页

23.单处理机系统中，可并行的是

I 进程与进程 II 处理机与设备 III 处理机与通道 IV 设备与设备

A. I、II 和 III B. I、II 和 IV C. I、III 和 IV D. II、III 和 IV

24.下列进程调度算法中，综合考虑进程等待时间和执行时间的是

- A. 时间片轮转调度算法 B.短进程优先调度算法
- C.先来先服务调度算法 D.高响应比优先调度算法

25.某计算机系统中有 8 台打印机，有 K 个进程竞争使用，每个进程最多需要 3 台打印机。该系统可能会发生死锁的 K 的最小值是（）

不死锁需要 $2K+1 < 8$ ，最多支持 3 个进程并发。注意问的如果是“不会发生死锁的最大值”就选 B。4 个以上就死锁，所以会死锁的最小值是 4。别看错了。

A. 2 B.3 C.4 D.5

26. 分区分配内存管理方式的主要保护措施是

A. 界地址保护 B.程序代码保护 C.数据保护 D.栈保护

27.一个分段存储管理系统中,地址长度为 32 位,其中段号占 8 位,则段长最大

A.2 的 8 次方字节 B.2 的 16 次方字节 C.2 的 24 次方字节 D.2 的 32 次方字节

28.下列文件物理结构中,适合随机访问且易于文件扩展的是

A. 连续结构 B.索引结构
C.链式结构且磁盘块定长 D.链式结构且磁盘块变长

29.假设磁头当前位于第 105 道,正在向磁道序号增加的方向移动。现有一个磁道访问请求序列为 35, 45, 12, 68, 110, 180, 170, 195, 采用 SCAN 调度(电梯调度)算法得到的磁道访问序列是

A. 110, 170, 180, 195, 68, 45, 35, 12
B.110, 68, 45, 35, 12, 170, 180, 195
C.110, 170, 180, 195, 12, 35, 45, 68
D.12, 35, 45, 68, 110, 170, 180, 195

30.文件系统中,文件访问控制信息存储的合理位置是

A. 文件控制块 B.文件分配表 C.用户口令表 D.系统注册表

31. 设文件 F1 的当前引用计数值为 1,先建立 F1 的符号链接(软链接)文件 F2,再建立 F1 的硬链接文件 F3,然后删除 F1。此时, F2 和 F3 的引用计数值分别是

A. 0、1 B.1、1 C.1、2 D.2、1

32. 程序员利用系统调用打开 I/O 设备时,通常使用的设备标识是

A. 逻辑设备名 B.物理设备名 C.主设备号 D.从设备号

33.在 OSI 参考模型中,自下而上第一个提供端到端服务的层次是

A. 数据链路层 B.传输层 C.会话层 D.应用层

34. 在无噪声情况下,若某通信链路的带宽为 3kHz,采用 4 个相位,每个相位具有 4 种振幅的 QAM 调制技术,则该通信链路的最大数据传输速率是

A. 12kbps B.24 kbps C.48 kbps D.96 kbps

35.数据链路层采用了后退 N 帧(GBN)协议,发送方已经发送了编号为 0~7 的帧。当计时器超时时,若发送方只收到 0、2、3 号帧的确认,则发送方需要重发的帧数是

A. 2 B.3 C.4 D.5

36.以太网交换机进行转发决策时使用的 PDU 地址是

- A. 目的物理地址 B.目的 IP 地址 C.源物理地址 D.源 IP 地址

37.在一个采用 CSMA/CD 协议的网络中, 传输介质是一根完整的电缆, 传输速率为 1Gbps, 电缆中的信号传播速度是 200 000km/s。若最小数据帧长度减少 800 比特, 则最远的两个站点之间的距离至少需要

- A. 增加 160m B.增加 80m C.减少 160m D.减少 80m

38.主机甲和主机乙间已建立一个 TCP 连接, 主机甲向主机乙发送了两个连续的 TCP 段, 分别包含 300 字节和 500 字节的有效载荷, 第一个段的序列号为 200, 主机乙正确接收到两个段后, 发送给主机甲的确认序列号是 A. 500 B.700 C.800 D.1000

39.一个 TCP 连接总是以 1KB 的最大段发送 TCP 段, 发送方有足够多的数据要发送。当拥塞窗口为 16KB 时发生了超时, 如果接下来的 4 个 RTT (往返时间) 时间内的 TCP 段的传输都是成功的, 那么当第 4 个 RTT 时间内发送的所有 TCP 段都得到肯定应答时, 拥塞窗口大小是

- A. 7KB B. 8KB C. 9KB D. 16KB

40.FTP 客户和服务器间传递 FTP 命令时, 使用的连接是

- A. 建立在 TCP 之上的控制连接 B. 建立在 TCP 之上的数据连接
C. 建立在 UDP 之上的控制连接 D. 建立在 UDP 之上的数据连接

二. 综合应用题。共 70 分。

41. (10 分) 带权图 (权值非负, 表示边连接的两顶点间的距离) 的最短路径问题是找出从初始顶点到目标顶点之间的一条最短路径。假定从初始顶点到目标顶点之间存在路径, 现有一种解决该问题的方法:

- ① 设最短路径初始时仅包含初始顶点, 令当前顶点 u 为初始顶点;
- ② 选择离 u 最近且尚未在最短路径中的一个顶点 v , 加入到最短路径中, 修改当前顶点 $u=v$;
- ③ 重复步骤②, 直到 u 是目标顶点时为止。

请问上述方法能否求得最短路径? 若该方法可行, 请证明之; 否则, 请举例说明。

42. (15 分) 已知一个带有表头结点的单链表, 结点结构为

data	link
------	------

假设该链表只给出了头指针 list。在不

改变链表的前提下, 请设计一个尽可能

高效的算法, 查找链表中倒数第 k 个位置上的结点 (k 为正整数)。若查找成功, 算法输出该结点的 data 值, 并返回 1; 否则, 只返回 0。要求:

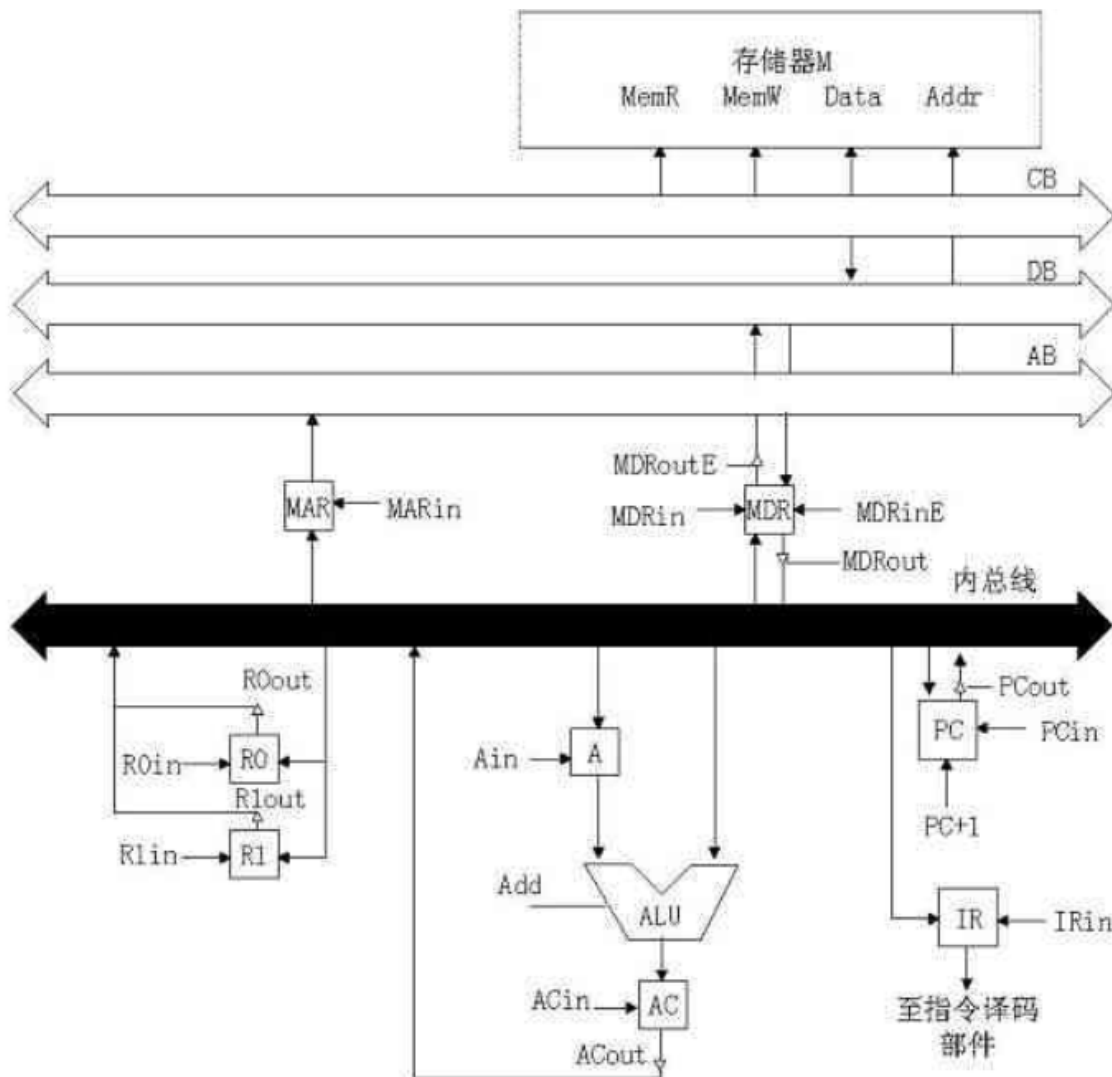
- (1) 描述算法的基本设计思想
- (2) 描述算法的详细实现步骤
- (3) 根据设计思想和实现步骤, 采用程序设计语言描述算法 (使用 C 或 C++或 JAVA 语言实现), 关键之处请给出简要注释。

43. (8 分) 某计算机的 CPU 主频为 500MHz, CPI 为 5 (即执行每条指令平均需 5 个时钟周期)。假定某外设的数据传输率为 0.5MB/s, 采用中断方式与主机进行数据传送, 以 32 位为传输单位, 对应的中断服务程序包含 18 条指令, 中断服务的其他开销相当于 2 条指令的执行时间。请回答下列问题, 要求给出计算过程。

- (1) 在中断方式下, CPU 用于该外设 I/O 的时间占整个 CPU 时间的百分比是多少?
- (2) 当该外设的数据传输率达到 5MB/s 时, 改用 DMA 方式传送数据。假设每次 DMA 传送大小为 5000B, 且 DMA 预处理和后处理的总开销为 500 个时钟周期, 则 CPU 用于该外设 I/O 的时间占整个 CPU 时间的

百分比是多少？（假设 DMA 与 CPU 之间没有访存冲突）

44. (13分) 某计算机字长 16 位，采用 16 位定长指令字结构，部分数据通路结构如图所示。图中所有控制信号为 1 时表示有效、为 0 时表示无效。例如控制信号 MDRinE 为 1 表示允许数据从 DB 打入 MDR，MDRin 为 1 表示允许数据从内总线打入 MDR。假设 MAR 的输出一直处于使能状态。加法指令“ADD (R1), R0”的功能为 $(R0) + ((R1)) \rightarrow (R1)$ ，即将 R0 中的数据与 R1 的内容所指主存单元的数据相加，并将结果送入 R1 的内容所指主存单元中保存。



数据通路结构

下表给出了上述指令取值和译码阶段每个节拍（时钟周期）的功能和有效控制信号，请按表中描述方式用表格列出指令执行阶段每个节拍的功能和有效控制信号。

功能和控制信号

时钟	功能	有效控制信号
C1	$MAR \leftarrow (PC)$	PCout, MARin
C2	$MDR \leftarrow M(MAR)$ $PC \leftarrow (PC)+1$	MemR, MDRinE PC+1
C3	$IR \leftarrow (MDR)$	MDRout, IRin
C4	指令译码	无

45. (7分) 三个进程 P1、P2、P3 互斥使用一个包含 N (N>0) 个单元的缓冲区。P1 每次用 produce () 生成一个正整数并用 put () 送入缓冲区某一空单元中; P2 每次用 getodd () 从该缓冲区中取出一个奇数并用 countodd () 统计奇数个数; P3 每次用 geteven () 从该缓冲区中取出一个偶数并用 counteven () 统计偶数个数。请用信号量机制实现这三个进程的同步与互斥活动, 并说明所定义的信号量的含义。要求用伪代码描述。

46. (8分) 请求分页管理系统中, 假设某进程的页表内容如下表所示。

页面大小为 4KB, 一次内存的访问时间是 100ns, 一次快表 (TLB) 的访问时间是 10ns, 处理一次缺页的平均时间为 108ns (已含更新 TLB 和页表的时间), 进程的驻留集大小固定为 2, 采用最近最少使用置换算法 (LRU) 和局部淘汰策略。假设

页号	页框号	有效位 (存在位)
0	101H	1
1	--	0
2	254H	1

① TLB 初始为空;

② 地址转换时先访问 TLB, 若 TLB 未命中, 再访问页表 (忽略访问页表之后的 TLB 更新时间);

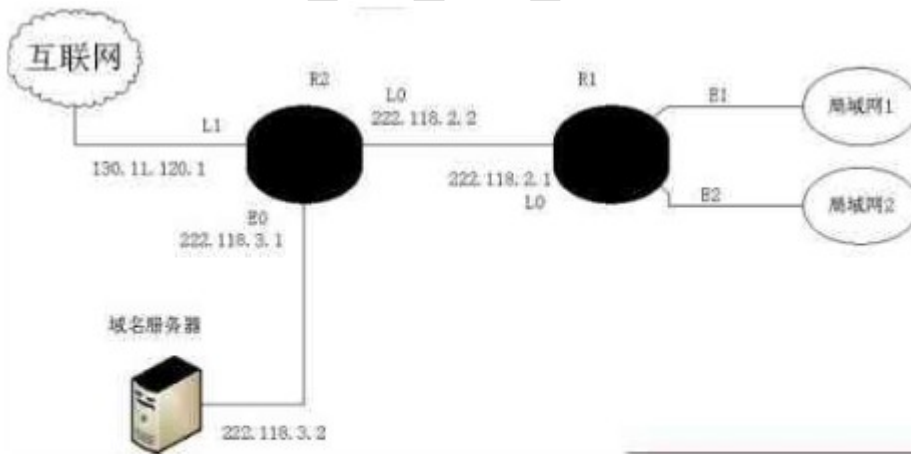
③ 有效位为 0 表示页面不在内存, 产生缺页中断, 缺页中断处理后, 返回到产生缺页中断的指令处重新执行。设有虚地址访问序列

2362H、1565H、25A5H, 请问:

(1) 依次访问上述三个虚地址, 各需多少时间? 给出计算过程。

(2) 基于上述访问序列, 虚地址 1565H 的物理地址是多少? 请说明理由。

47. (9分) 某公司网络拓扑图如下图所示, 路由器 R1 通过接口 E1、E2 分别连接局域网 1、局域网 2, 通过接口 L0 连接路由器 R2, 并通过路由器 R2 连接域名服务器与互联网。R1 的 L0 接口的 IP 地址是 202.118.2.1; R2 的 L0 接口的 IP 地址是 202.118.2.2, L1 接口的 IP 地址是 130.11.120.1, E0 接口的 IP 地址是 202.118.3.1; 域名服务器的 IP 地址是 202.118.3.2。



R1 和 R2 的路由表结构为:

目的网络 IP 地址	子网掩码	下一跳 IP 地址	接口
------------	------	-----------	----

将 IP 地址空间 202.118.1.0/24 划分为两个子网, 分配给局域网 1、局域网 2, 每个局域网分配的地址数不少于 120 个, 请给出子网划分结果。说明理由或给出必要的计算过程。

请给出 R1 的路由表, 使其明确包括到局域网 1 的路由、局域网 2 的路由、域名服务器的主机路由和互联网的路由。请采用路由聚合技术, 给出 R2 到局域网 1 和局域网 2 的路由。

FREEKAOYAN

2009 年计算机统考真题参考答案

一. 选择题

1	2	3	4	5	6	7	8	9	10
B	C	D	B	C	B	A	D	A	B
11	12	13	14	15	16	17	18	19	20
C	D	D	C	D	C	A	A	D	B
21	22	23	24	25	26	27	28	29	30
D	A	D	D	C	A	C	B	A	A
31	32	33	34	35	36	37	38	39	40
B	A	B	B	C	A	D	D	C	A

1 2 3 4 5 6 7 8 9 10

B C D B C B A D A B

11 12 13 14 15 16 17 18 19 20

C D D C D C A A D B

21 22 23 24 25 26 27 28 29 30

D A D D C A C B A A

31 32 33 34 35 36 37 38 39 40

B A B B C A D D C A

1.为解决计算机与打印机之间速度不匹配的问题,通常设置一个打印数据缓冲区,该缓冲区的逻辑结构应该是(队列)

栈的定义:栈是只准在表尾进行插入和删除的线性表,称为 LIFO (即后进先出表)。允许插入和删除的一端叫栈顶,另一端叫栈底。

队列的定义:队列是允许在一端进行插入而在另一端进行删除的线性表。允许插入的一端称为队尾,允许删除的一端称为队头。队列也称为先进先出表 (FIFO)

树的定义:树是包含 n 个结点的有限集合 ($n>0$)

图的定义:图 (Graph) 是由非空的顶点集合和一个描述顶点之间关系——边 (或者弧) 的集合组成。其形式化定义为: $G=(V,E)$

其中 G 表一个图, V 是图 G 中顶点的集合, E 是图 G 中边的集合。

2. 设栈 S 和队列 Q 的初始状态均为空, 元素 abcdefg 依次进入栈 S。若每个元素出栈后立即进入队列 Q, 且 7 个元素出队的顺序是 bdcfeag, 则栈 S 的容量 ??? (3)

3. 给定二叉树图, 若遍历后的结点序列为 XXX, 则其遍历方式是 ???

设 N 代表二叉树的根, L 代表根结点的左子树, R 代表根结点的右子树。

4. **平衡二叉树定义**: 若一棵二叉树中每个结点的左、右子树的高度至多相差 1, 则称此树为平衡二叉树。我们把二叉树中每个结点的左子树高度减去右子树高度定义为该结点的平衡因子(balance factor)。因此, 平衡树中每个结点的平衡因子只能是 1、0 或 -1。

5. 已知一棵完全二叉树的第 6 层 (设根为第 1 层) 有 8 个叶结点, 则完全二叉树的结点个数最多是 ??? (111)

二叉树: 二叉树是一种重要的树形结构, 它是 $n (n \geq 0)$ 个结点的有限集, 其子树分为互不相交的两个集合, 分别称为左子树和右子树, 左子树和右子树也是如上定义的二叉树。左子树和右子树的顺序不能互换。

满二叉树: 深度为 k 结点数为 $2^k - 1$ 的二叉树。

完全二叉树: 若对满二叉树的结点从上到下从左到右进行编号, 则深度为 k 且有 n 个结点的二叉树, 当且仅当其每一个结点都与深度为 k 的满二叉树的编号从 1 到 n 一一对应时, 称为完全二叉树。

6. 将森林转换为对应的二叉树, 若在二叉树中, 结点 u 是结点 v 的父结点的父结点, 则在原来的森林中, u 和 v 可能具有的关系是: 父子关系或兄弟关系。

森林转换为对应的二叉树: 兄弟之间连线, 父只与长子连线。(左孩子右兄弟)

7. **无向连通图特性**的叙述: 所有顶点的度之和为偶数。

顶点的度定义: 与定点 v 相关联的边数(每个环计算两次)。

度为零的顶点称为孤立顶点, 度为奇数的顶点称为奇点, 度为偶数的顶点称为偶点。

8. 一棵 m 阶 B 树 (1970 年, R.Bayer 和 E.mccreight 提出了一种适用于外查找的树, 它是一种平衡多叉树)

定义:

- (1) 树中每个结点至多有 m 个孩子;
- (2) 除根结点和叶子结点外, 其它每个结点至少有 $m/2$ 个孩子;
- (3) 若根结点不是叶子结点, 则至少有 2 个孩子(除非 B 树只有一个结点);
- (4) 所有叶子结点都出现在同一层, 叶子结点不包含任何关键字信息;
- (5) 有 k 个孩子的非终端结点恰好包含有 $k-1$ 个关键字(各节点内关键字均升序或降序排列).

9.堆(Heap)分为小根堆和大根堆两种, 对于一个小根堆, 它是具有如下特性的一棵完全二叉树:

- (1)若树根结点存在左孩子, 则根结点的值(或某个域的值)小于等于左孩子结点的值(或某个域的值);
- (2)若树根结点存在右孩子, 则根结点的值(或某个域的值)小于等于右孩子结点的值(或某个域的值);
- (3)以左、右孩子为根的子树又各是一个堆。

大根堆的定义与上述类似, 只要把小于等于改为大于等于就得到了。

由堆的定义可知, 若一棵完全二叉树是堆, 则该树中以每个结点为根的子树也都是一个堆。

分别为一个小根堆和一个大根堆。根据堆的定义可知, 堆顶结点, 即整个完全二叉树的根结点, 对于小根堆来说具有最小值, 对于大根堆来说具有最大值。

堆排序利用了大根堆(或小根堆)堆顶记录的关键字最大(或最小)这一特征, 使得在当前无序区中选取最大(或最小)关键字的记录变得简单。

当向一个小根堆插入一个具有最小值的元素时,该元素需要逐层向上调整,直到被调整到堆顶位置为止。

10.数据元素序列 11, 12, 13, 7, 8, 9, 23, 4, 5 是第二趟排序后的结果, 则该排序算法只能是**插入排序**。

气泡排序基本思想:

设待排序对象序列中的对象个数为 n 。一般地, 第 i 趟起泡排序从 1 到 $n-i+1$ 依次比较相邻两个记录地关键字, 如果发生逆序, 则交换之, 其结果是这 $n-i+1$ 个记录中, 关键字最大的记录被交换到第 $n-i+1$ 的位置上, 最多作 $n-1$ 趟。

简单选择排序基本思想:

第一趟在 $R[1..n]$ 中选最小的, 与 $R[1]$ 交换

第二趟在 $R[2..n]$ 中选最小的, 与 $R[2]$ 交换, 依次类推, 进行 $n-1$ 次选择后, 整个文件有序。

直接插入排序基本思想:

将一个记录插入到已排序的有序表中,使插入后的表仍然有序。

折半插入排序基本思想:

将一个记录插入到已排序的有序表中,使插入后的表仍然有序,但插入时利用折半搜索法寻找元素的插入位置。

归并排序基本思想:

又一类不同的排序方法,将两个或两个以上的有序表合并成一个新的有序表。

快速排序基本思想:

取 $R[1..n]$ 中任一记录作为“枢轴”,一趟排序之后枢轴的值均小于“枢轴”左边的值,枢轴右边的值均大于“枢轴”的值。

堆排序基本思想:

1. 如何将一个无序序列调整为堆?
2. 如何在互换堆顶之后重新调整为堆(关键)?

希尔排序 (Shell Sort) 基本思想:

1. n 大,划分成若干子序列,分别直接插入排序。
2. 待整个记录“基本有序”时,对整体直接重排。

11. 冯·诺依曼计算机中指令和数据均以二进制形式存放在存储器中,CPU区分它们的依据是指令周期的不同阶段。

12. 十进制转换:

十进制转任意进制的通用方法是:除 x 取余倒排法 (x 代表进制数)。

如:将十进制数 76 转换成任意进制

1.转成二进制

$$76 / 2 \dots 0$$

$$= 38 / 2 \dots 0$$

$$= 19 / 2 \dots 1$$

$$= 9 / 2 \dots 1$$

$$= 4 / 2 \dots 0$$

$$= 2 / 2 \dots 0$$

$$= 1 / 2 \dots 1$$

$$76(10) = 1001100(2)$$

2.转成八进制

$$76 / 8 \dots 4$$

$$= 9 / 8 \dots 1$$

$$= 1 / 8 \dots 1$$

$$76(10) = 114(8)$$

3.转成十六进制

$$76 / 16 \dots 12$$

$$= 4 / 16 \dots 4$$

$$76(10) = 4C(16)$$

B : 二进制数。

Q : 八进制数。

D : 十进制数。

H : 十六进制数。

负数用十六进制和八进制怎么表示?

使用补码（二进制），而且还要指定字长

比如说一个二字节整型的 -2 就应该是：

11111111 11111110

再转化其它进制

十六进制: FFFE

八进制: 177776

13. 浮点数加减运算过程一般包括对阶、尾数运算、规格化、舍入和判溢出等步骤。设浮点数的阶码和尾数均采用补码表示,且位数分别为5位和7位(均含2位符号位)。若有两个数 $X=2^7*29/32$, $Y=2^5*5/8$, 则用浮点加法计算 $X+Y$ 的最终结果是发生溢出

浮点数表示: 小数点的位置可以在一定范围内浮动。

E 为阶, 包括阶符和阶码(整数), 阶码为阶决定了浮点数的表示范围。

M 为位数, 包括数符和尾数, 表示数的精度和正负。

对阶原则: 小阶对大阶。

双符号位判溢: 加, 减后。两个符号位出现“01”, 表示已经溢出, 即结果大于+1.

14. 存储器的分类:

1.按存储介质分:(1)半导体存储器;(2)磁表面存储器;(3)光介质存储器。

2.按存取方式分类:(1)随机存取存储器 RAM; (2)顺序存储器 SAM; (3)直接存取存储器 DAM。

3.按计算机功能分类:

(1)主存储器(主存)

用于存放计算机运行期间的大量程序和数据存储器, CPU 能直接访问。由 MOS 存储器构成。

(2)高速缓冲存储器(Cache)

Cache 是介于 CPU 和主存之间高速小容量存储器, 用于存放最活跃的程序块和数据。由静态 MOS 存储器构成。

特点: 速度快, 但容量小, 位价格较高。

主存和 Cache 一起构成计算机的内存储器（内存），是 CPU 能直接访问的存储器。

(3)辅助存储器（外存储器）

存放当前暂不参与运行的程序和数据，需要时再与主存成批交换信息的存储器。

特点是容量大，可存放大量的程序和数据，但速度慢。

(4)控制存储器（CM）

在微程序控制的计算机中，用于存放执行指令的微程序的存储器。

CM 一般由 ROM 构成，属于控制器的一部分。

4.其它分类:

a.按读写功能分类:

(1)只读存储器(ROM):工作时只能读出不能写入的存储器。

(2)读写存储器(RAM):既能读出又能写入的存储器。

b.按信息的可保存性分类

(1)永久性存储器:指断电后仍能保存信息的存储器，如磁表面存储器。

(2)非永久性存储器:指断电后信息即消失的存储器，如半导体读写存储器。

某计算机的 Cache 共有 16 块，采用 2 路组相连映射方式（即每组 2 块）。每个主存块大小为 32 字节，按字节编址。主存 129 号单元所在主存块应装入到 Cache 组号是(4)

15. 主存容量是根据地址线的位数来确定的,在 16 位 PC 机中地址总线的宽度是 20 位,则主存大小为: 2^{20} byte=1MB,现在的 PC 机一般都是 32 位地址总线的,最大直接寻址空间为: 2^{32} ,即主存最大容量为 4GB

某计算机主存容量为 64KB,其中 ROM 区为 4KB,其余为 RAM 区,按字节编址。现要用 2K*8 位的 ROM 芯片和 4K*4 位的 RAM 芯片来设计该存储器,则需要上述规格的 ROM 芯片数和 RAM 芯片数分别是 2 30

16.某计算机字长 16 位，主存按字节编址，转移指令采用相对寻址，由两个字节组成，第一字节为操作码字段，第二字节为相对位移量字段。假定取指令时，每取一字节 PC 自动加 1。若某转移指令所在主存地址为 2000H，相对位移量字段的内容为 06H，则该转移指令成功转移后的目标地址是(2008H)

相对寻址:以当前程序计数器 pc 的内容为基址，加上指令给出的一字节补码数（偏移量）形成新的 pc 值的寻址方式称为相对寻址。

目的地址=源地址+相对转移指令字节数+指令中给定的偏移量(rel).

17.**RISC(精简指令系统)的叙述:**

- (1).选用的是使用频率很高的一些简单指令;
- (2).指令长度固定，指令格式及寻址方式种类少;
- (3).只有取数/存数指令访问存储器，其余指令的操作都在寄存器之间进行;
- (4).大多数指令可在一个计算机周期内完成。

18.指令周期是取出并执行一条指令的时间。

指令周期常常有若干个 CPU 周期，CPU 周期也称为机器周期，**由于 CPU 访问一次内存所花费的时间较长，因此通常用内存中读取一个指令字的最短时间来规定 CPU 周期。**这就是说一条指令取出阶段（通常为取指）需要一个 CPU 周期时间。而一个 CPU 周期时间又包含若干个时钟周期(通常为节拍脉冲或 T 周期，它是处理操作的最基本的单位)。这些时钟周期的总和则规定了一个 CPU 周期的时间宽度。

某计算机的指令流水线由四个功能段组成，指令流经各功能段的时间（忽略各功能段之间的缓冲时间）分别是 90ns、80ns、70ns、60ns，则计算机的 **CPU 时钟周期**是(90ns)。

19.相对于**微程序控制器**，**硬布线控制器的特点是指令执行速度快，指令功能的修改和扩展难。**

20.假设某系统总线在一个总线周期中并行传输 4 字节信息，一个总线周期占用 2 个**时钟周期**，总线**时钟频率**为 10MHz，则**总线带宽**是(20MB/S)

时钟周期和时钟频率互为倒数关系。

1KHz=1000Hz;

1MHz=1000KHz

并行总线带宽(MB/s) = 并行总线时钟频率(MHz) * 并行总线位宽(bit/8 = B) * 每时钟传输几组数据(cycle)

串行总线带宽(MB/s) = 串行总线时钟频率(MHz) * 串行总线位宽(bit/8 = B) * 串行总线管线 * 编码方式 * 每时钟传输几组数据(cycle)

1 字节 (Byte) = 8 位 (bit)

21.假设某计算机的存储系统由 Cache 和主存组成,某程序执行过程中访存 1000 次,其中访问 Cache 缺失(未命中) 50 次,则 Cache 的命中率是(95%)

22.能引起外部中断的事件是:键盘输入(人的干预)或外请求。(外中断都是强迫中断)

23.单处理机系统中,可并行的是(II、III 和 IV)

I 进程与进程 II 处理机与设备 III 处理机与通道 IV 设备与设备

24.进程调度算法中, 综合考虑进程等待时间和执法世间是:(高响应比优先调度算法).

FCFS:谁先到就绪队列,将处理机分给谁;

时间片轮转调度法:以先来后到的次序+时间片轮转;

优先级调度:选优先级最高的进程占用处理机(优先级可动态改变);

短进程优先:取所需的运行时间最短的进程(该算法能使平均等待时间最短).

25.某计算机系统有 8 台打印机,有 K 个进程竞争使用,每个进程最多需要 3 台打印机。该系统可能会发生死锁的 K 的最小值是(4)

26.分区分配内存管理方式的主要保护措施是(界地址保护)

27.一个分段存储管理系统中,地址长度为 32 位,其中段号占 8 位,则最大段长是(2^{24}).

分页与分段的区别:

分页:信息的物理单位 大小一样, 由系统固定 地址空间是一维的

分段:信息的逻辑单位 大小不等, 由用户确定 地址空间是二维的

28.文件物理结构中, 适合随机访问且易于文件扩展的是(索引结构).

连续结构:将一个文件中逻辑上连续的信息存放到存储介质的依次相邻的块上便形成顺序结构, 这类文件叫连续文件, 又称顺序文件。

优点: 简单;支持顺序存取和随机存取; 顺序存取速度快; 所需的磁盘寻道次数和寻道时间最少。

缺点: 建立文件前需要能预先确定文件长度, 以便分配存储空间; 修改、插入和增生文件记录有困难; 对直接存储器作连续分配, 会造成少量空闲块的浪费。

链接结构: 一个文件的信息存放在若干不连续的物理块中, 各块之间通过指针连接, 前一个物理块指向下一个物理块。

优点: 提高了磁盘空间利用率,不存在外部碎片问题; 有利于文件插入和删除; 有利于文件动态扩充。

缺点: 存取速度慢, 不适于随机存取; 可靠性问题, 如指针出错; 更多的寻道次数和寻道时间; 链接指针占用一定的空间。

索引结构: 一个文件的信息存放在若干不连续物理块中, 系统为每个文件建立一个专用数据结构----索引表。表中每一栏目指出文件信息所在的逻辑块号和与之对应的物理块号。索引表的物理地址则由文件说明信息项给出。

优点: 保持了链接结构的优点,又解决了其缺点; 即能顺序存取,又能随机存取; 满足了文件动态增长、插入删除的要求; 也能充分利用外存空间。

缺点: 较多的寻道次数和寻道时间; 索引表本身带来了系统开销 如: 内外存空间, 存取时间。

29.SCAN 调度(电梯调度)算法: 电梯调度算法基于日常生活中的电梯工作模式: 电梯保持按一个方向移动, 直到在那个方向上没有请求为止, 然后改变方向。反映在磁盘调度上, 总是沿着移动臂的移动方向选择距离磁头当前位置最近的 I/O 请求作为下一次调度的对象。如果该方向上已无 I/O 请求, 则改变方向再做选择。

假设磁头当前位于第 105 道, 正在向磁道序号增加的方向移动。现在一个磁道访问请求序列为 35, 45, 12, 68, 110, 180, 170, 195, 采用 SCAN 调度 (电梯调度) 算法得到的磁道访问序列是: 110,170,180,195,68,45,35,12。

30.文件系统中, 文件访问控制信息存储的合理位置是(文件控制块)。

31.硬链接: 在磁盘上有一份内容一样的文件产生, 但不改变文件的 Inode,也就是与原文件共用 Inode。

软链接: 不在磁盘上有一份内容一样的文件产生, 但产生新的 Inode。

设文件 F1 的当前引用计数值为 1, 先建立 F1 的符号链接 (软链接) 文件 F2, 再建立 F1 的硬链接文件 F3, 然后删除 F1。此时, F2 和 F3 的引用计数值分别是 (1, 1)。

32.程序员利用系统调用打开 I/O 设备时, 通常使用的设备标识是 (逻辑设备名)。

33.在 OSI 参考模型中, 自下而上第一个提供端到端服务的层次是 (传输层)。

自下而上方法的一般从检查物理层开始。

自下而上分别称为: 物理层、数据链路层、网络层、传输层、会话层、表示层和应用层。

传输层是两台计算机经过网络进行数据通信时,第一个端到端的层次, 具有缓冲作用。

34.1924 年奈奎斯特(Nyquist)就推导出在理想低通信道的最高大码元传输速率的公式:

理想低通信道的最高大码元传输速率 $C=2W \cdot \log_2 N$ (其中 W 是理想低通信道的带宽,N 是电平强度)

信道带宽与数据传输速率的关系可以奈奎斯特(Nyquist)准则与香农(Shanon)定律描述。

奈奎斯特定理描述了有限带宽、无噪声信道的最大数据传输速率与信道带宽的关系。香农定理则描述了有限带宽、有随机热噪声信道的最大传输速率与信道带宽、信噪比之间的关系。

奈奎斯特准则指出: 对于二进制数据信号的最大数据传输速率 R_{max} 与通信信道带宽 B (B=f,单位 Hz)的关系可以写为: $R_{max}=2 \cdot B(\text{bps})$

香农定理指出: 在有随机热噪声的信道上传输数据信号时, 数据传输速率 R_{max} 与信道带宽 B、信噪比 S/N 的关系为:

$R_{max}=B \cdot \log_2(1+S/N)$ [以 2 为底,1+S/N 的对数]

式中, R_{max} 单位为 bps,带宽 B 单位为 Hz, 信噪比 S/N 通常以 dB (分贝) 数表示。若 S/N=30(dB),那么信噪比根据公式: $S/N(\text{dB})=10 \cdot \lg(S/N)$ 则 S/N=1000。若带宽 B=3000Hz, 则 $R_{max} \approx 30\text{kbps}$ 。

(1) 对于带宽为 6MHz 的信道, 若用 4 种不同的状态来表示数据, 在不考虑热噪声的情况下, 该信道的最大数据传输速率是多少?

答：由无热噪声的奈奎斯特公式： $C=2H\log_2N=2*6M*\log_24=24Mbps$ ，即该信道的最大数据传输速率是 24Mbps

(2) 在无噪声情况下，若某通信链路的带宽为 3KHz,采用 4 个相位，每个相位具有 4 种振幅的 QAM 调制技术，则该通信链路的最大数据传输速率是(24kbps)

$C=2H\log_2N=2*3k*\log_216=24kbps$.

35.后退 N 帧 ARQ就是从出错处重发已发出过的 N 个帧。

数据链路层采用了后退 N 帧 (GBN) 协议，发送方已经发送了编号为 0~7 的帧。当计时器超时时，若发送方只收到 0、2、3 号帧的确认，则发送方需要重发的帧数是(4)。

36.以太网交换机进行转发决策时使用的 PDU 地址是(目的物理地址)。

ARP 协议是“Address Resolution Protocol”（地址解析协议）的缩写。在局域网中，网络中实际传输的是“帧”，帧里面是有目标主机的 MAC 地址的。在以太网中，一个主机要和另一个主机进行直接通信，必须要知道目标主机的 MAC 地址。但这个目标 MAC 地址是如何获得的呢？它就是通过地址解析协议获得的。所谓“地址解析”就是主机在发送帧前将目标 IP 地址转换成目标 MAC 地址的过程。ARP 协议的基本功能就是通过目标设备的 IP 地址，查询目标设备的 MAC 地址，以保证通信的顺利进行。

37.CSMA/CD 是一种分布式介质访问控制协议，网中的各个站（节点）都能独立地决定数据帧的发送与接收。每个站在发送数据帧之前，首先要进行载波监听，只有介质空闲时，才允许发送帧。这时，如果两个以上的站同时监听到介质空闲并发送帧，则会产生冲突现象，这使发送的帧都成为无效帧，发送随即宣告失败。每个站必须有能力随时检测冲突是否发生，一旦发生冲突，则应停止发送，以免介质带宽因传送无效帧而被白白浪费，然后随机延时一段时间后，再重新争用介质，重发送帧。CSMA/CD 协议简单、可靠，其网络系统（如 Ethernet）被广泛使用。

在一个采用 CSMA/CD 协议的网络中，传输介质是一根完整的电缆，传输速率为 1Gbps,电缆中的信号传播速度是 200 000km/s.若最小数据帧长度减少 800 比特，则最远的两个站点之间的距离至少需要(减少 80)。

最短帧长= $2*L*10^9(b/s)/200\ 000\ 000m/s=10*L(bit)$.

38.主机甲和主机乙之间建立一个 TCP 连接,主机甲向主机乙发送了两个连续的 TCP 段,分别含 300 字节和 500 字节的有效载荷,第一个段的序列号为 200,主机乙正确接收到两个段后,发送给主机甲的确认序列号是 (1000)。

例如,序列号等于前一个报文段的序列号与前一个报文段中数据字节的数量之和。例如,假设源主机发送 3 个报文段,每个报文段有 100 字节的数据,且第一个报文段的序列号是 1000,那么接收到第一个报文段后,目的主机返回含确认号 1100 的报头。接收到第二个报文段(其序号为 1100)后,目的主机返回确认号 1200。接收到第三个报文段后,目的主机返回确认号 1300。

39.确定拥塞窗口的大小的过程:在刚建立连接时,将拥塞窗口的大小初始化为该连接所需的最大连接数据段的长度值,并发送一个最大长度的数据段(当然必须是接收窗口允许的)。如果在定时器超时前得到确认,将拥塞窗口的大小增加一个数据段的字节数,并发送两个数据段,如果每个数据段在定时器超时前都得到确认,就再在原基础上增加一倍,即为 4 个数据段的大小,如此反复,每次都在前一次的基础上加倍。当定时器超时或达到发送窗口设定值,停止拥塞窗口尺寸的增加。这种反复称为慢速启动,所有的 TCP 协议都支持这种方法。

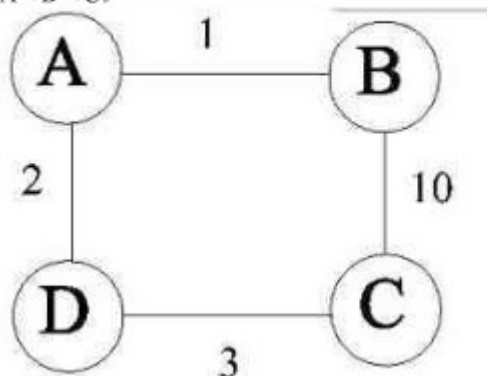
一个 TCP 连接总是以 1KB 的最大段发送 TCP 段,发送方有足够多的数据要发送。当拥塞窗口为 16KB 时发生了超时,如果接下来的 4 个 RTT(往返时间)时间内的 TCP 段的传输都是成功的,那么当第 4 个 RTT 时间内发送的所有 TCP 段都得到肯定应答时,拥塞窗口大小是(9KB)。

40.FTP 客户和服务器间传递 FTP 时,使用的连接是(建立在 TCP 之上的控制连接)。

二. 综合应用题

41.该方法求得的路径不一定是最短路径。例如,对于下图所示的带权图,如果按照题中的原则,从 A 到 C 的最短路径为 A→B→C,事实上其最短路径为 A→D→C。

从 A 到 C 的最短路径为 A→B→C,事实上其最短路径为 A→D→C。



42. (1) 算法基本思想如下：从头至尾遍历单链表，并用指针 P 指向当前节点的前 K 个节点。当遍历到链表的最后一个节点时，指针 P 所指向的节点即为所查找的节点。

(2) 详细实现步骤：增加两个指针变量和一个整型变量，从链表头向后遍历，其中指针 P1 指向当前遍历的节点，指针 P 指向 P1 所指向节点的前 K 个节点，如果 P1 之前没有 K 个节点，那么 P 指向表头节点。用整型变量 i 表示当前遍历了多少节点，当 $i > k$ 时，指针 p 随着每次遍历，也向前移动一个节点。当遍历完成时，p 或者指向表头就节点，或者指向链表中倒数第 K 个位置上的节点。

(3) 算法描述：

```

Int LocateElement(linklist list,int k)
{
    P1=list->link;
    P=list;
    i=1;
while(P1)
{
    P1=P1->link;
    i++;
    if(i>k) p=p->next; //如果 i>k,则 p 也往后移
}
if(p==list)return 0; //说明链表没有 k 个结点
else
{
    printf( "%d\n ",p->data);
    return 1;
}
}
    
```

43. (1) 在中断方式下，每 32 位 (4B) 被中断一次，故每秒中断

$$0.5\text{MB}/4\text{B}=0.5 \times 106/4=12.5 \times 104 \text{ 次}$$

要注意的是，这里是数据传输率，所以 $1\text{MB}=106\text{B}$ 。因为中断服务程序包含 18 条指令，中断服务的其他开销相当于 2 条指令的执行时间，且执行每条指令平均需 5 个时钟周期，所以，1 秒内用于中断的时钟周期数为

$$(18+2) \times 5 \times 12.5 \times 104=12.5 \times 106$$

(2) 在 DMA 方式下，每秒进行 DMA 操作

$5\text{MB}/5000\text{B}=5 \times 106/5000=1 \times 103$ 次因为 DMA 预处理和后处理的总开销为 500 个时钟周期，所以 1 秒钟之内用于 DMA 操作的时钟周期数为

$$500 \times 1 \times 103=5 \times 105$$

故在 DMA 方式下，占整个 CPU 时间的百分比是

$$((5 \times 105) / (500 \times 106)) \times 100\%=0.1\%$$

44.指令执行阶段每个节拍的功能和有效控制信号如下所示
时钟 功能 有效控制信号

时钟	功能	有效控制信号
C5	MAR←(R1)	PCout,MARin
C6	MDR←M(MAR)	MemR,MDRinE
C7	A←(R0)	R0out,Ain
C8	AC←(MDR)+(A)	MDRout,Addr,ACin
C9	MDR←(AC)	ACout,MDRin
C10	M(MAR) ←MDR	MDRoutE,MemW

C5 MAR←(R1) PCout,MARin

C6 MDR←M(MAR) MemR,MDRinE

C7 $A \leftarrow (R0) \ R0out, Ain$
 C8 $AC \leftarrow (MDR) + (A) \ MDRout, Addr, ACin$
 C9 $MDR \leftarrow (AC) \ ACout, MDRin$
 C10 $M(MAR) \leftarrow MDR \ MDRoutE, MemW$

45. 定义信号量 S1 控制 P1 与 P2 之间的同步；S2 控制 P1 与 P3 之间的同步；empty 控制生产者与消费者

之间的同步；mutex 控制进程间互斥使用缓冲区。程序如下：

Var s1=0,s2=0,empty=N,mutex=1;

Parbegin

P1:begin

X=produce();

P(empty);

P(mutex);

Put();

If x%2==0

V(s2);

else

V(s1);

V(mutex);

end.

P2:begin

P(s1);

P(mutex);

Getodd();

Countodd():=countodd()+1;

V(mutex);

V(empty);

end.

P3:begin

P(s2)

P(mutex);

Geteven();

Counteven():=counteven()+1;

V(mutex);

V(empty);

end.

Parend.

46.

(1) 根据页式管理的工作原理，应先考虑页面大小，以便将页号和页内位移分解出来。页面大小为 4KB，即 2¹²，则得到页内位移占虚地址的低 12 位，页号占剩余高位。可得三个虚地址的页号 P 如下（十六进制的一位数字转换成 4 位二进制，因此，十六进制的低三位正好为页内位移，最高位为页号）：

2362H: P=2, 访问快表 10ns, 因初始为空，访问页表 100ns 得到页框号，合成物理地址后访问主存 100ns, 共计 10ns+100ns+100ns=210ns。

4KB, 页内占 12 位，即 16 机制的 3 位
 则 2362H 的最高位就是页号

2:10 不命中+100 页表+100 内存地址

1: 10 不命中+100 页表+108 缺页+100 内存地址

2: 10 命中+100 内存地址

1 号页内偏移 565H, 缺页, 置换 0,
 101565H

1565H: P=1, 访问快表 10ns, 落空, 访问页表 100ns 落空, 进行缺页中断处理 108ns, 合成物理地址后访问主存 100ns, 共计 10ns+100ns+108ns+100ns≈108ns。

25A5H: P=2, 访问快表, 因第一次访问已将该页号放入快表, 因此花费 10ns 便可合成物理地址, 访问主存 100ns, 共计 10ns+100ns=110ns。

(2) 当访问虚地址 1565H 时, 产生缺页中断, 合法驻留集为 2, 必须从页表中淘汰一个页面, 根据题目的置换算法, 应淘汰 0 号页面, 因此 1565H 的对应页框号为 101H。由此可得 1565H 的物理地址为 101565H。

47.

(1) 无类 IP 地址的核心是采用不定长的网络号和主机号, 并通过相应的子网掩码来表示 (即网络号部分为 1, 主机号部分为 0)。本题中网络地址位数是 24, 由于 IP 地址是 32 位, 因此其主机号部分就是 8 位。因此, 子网掩码就是 11111111 11111111 11111111 00000000, 即 255.255.255.0。

根据无类 IP 地址的规则, 每个网段中有两个地址是不分配的: 主机号全 0 表示网络地址, 主机号全 1 表示广播地址。因此 8 位主机号所能表示的主机数就是 2 的 8 次方—2, 即 254 台。

该网络要划分为两个子网, 每个子网要 120 台主机, 因此主机位数 X 应该满足下面三个条件:

X<8, 因为是在主机号位长为 8 位的网络进行划分, 所以 X 一定要小于 8 位。

2 的 X 次方>120, 因为根据题意需要容纳 120 台主机。

X 是整数。

解上述方程, 得到 X=7.子网掩码就是 11111111 11111111 11111111 10000000, 即 255.255.255.128。

所以划分的两个网段是: 202.118.1.0/25 与 202.118.1.128/25。

(2) 填写 R1 的路由表

填写到局域网 1 的路由。局域网 1 的网络地址和掩码在问题 (1) 已经求出来了, 为 202.118.1.0/25。则 R1 路由表应填入的网络地址为 202.118.1.0, 掩码为 255.255.255.128。由于局域网 1 是直接连接到路由器 R1 的 E1 口上的, 因此, 下一跳地址填写直接路由 (Direct)。接口填写 E1。填写到局域网 2 的路由表 1。

局域网 2 的网络地址和掩码在问题 (1) 中已经求出来了, 为 202.118.1.128/25。则 R1 路由表应该填入的网络地址为 202.118.1.128, 掩码为 255.255.255.128。由于局域网 2 是直接连接到路由器 R1 的 E2 口上的, 因此, 下一跳地址填写直接路由。接口填写 E2。填写到域名服务器的路由。由于域名服务器的 IP 地址为 202.118.3.2, 而该地址为主机地址, 因此掩码为 255.255.255.255。同时, 路由器 R1 要到 DNS 服务器, 就需要通过路由器 R2 的接口 L0 才能 到达, 因此下一跳地址填写 L0 的 IP 地址 (202.118.2.2)。

填写互联网路由。本题实质是编写默认路由。默认路由是一种特殊的静态路由, 指的是当路由表中与包的目的地址之间没有匹配的表项时路由器能够做出的选择。如果没有默认路由器, 那么目的地址在路由表中没有匹配表项的包将被丢弃。默认路由在某些时候非常有效, 当存在末梢网络时, 默认路由会大大简化路由器的配置, 减轻管理员的工作负担, 提高网络性能。默认路由叫做“0/0”路由, 因为路由的 IP 地址 0.0.0.0, 而子网掩码也是 0.0.0.0。同时路由器 R1 连接的网络需要通过路由器 R2 的 L0 口才能到达互联网络, 因此下一跳地址填写 L0 的 IP 为 202.118.2.2。

综上, 填写的路由表如下:

R1 路由表

目的网络 IP 地址	子网掩码	下一跳 IP 地址	接口
202.118.1.0	255.255.255.128	Direct	E1
202.118.1.128	255.255.255.128	Direct	E2
202.118.3.2	255.255.255.255	202.118.2.2	L0
0.0.0.0	0.0.0.0	202.118.2.2	L0

(3) 填写 R2 到局域网 1 和局域网 2 的路由表 2。局域网 1 和局域网 2 的地址可以聚合为

202.118.1.0/24, 而 R2 去往局域网 1 和局域网 2 都是同一条路径。因此, 路由表里面只需要填写到 202.118.1.0/24 网络的路由即可, 如下表所示

R2 路由表

目的网络 IP 地址	子网掩码	下一跳 IP 地址	接口
202.118.1.0	255.255.255.0	202.118.2.1	L0

2010 年全国研究生考试计算机统考试题及答案

一、单选题

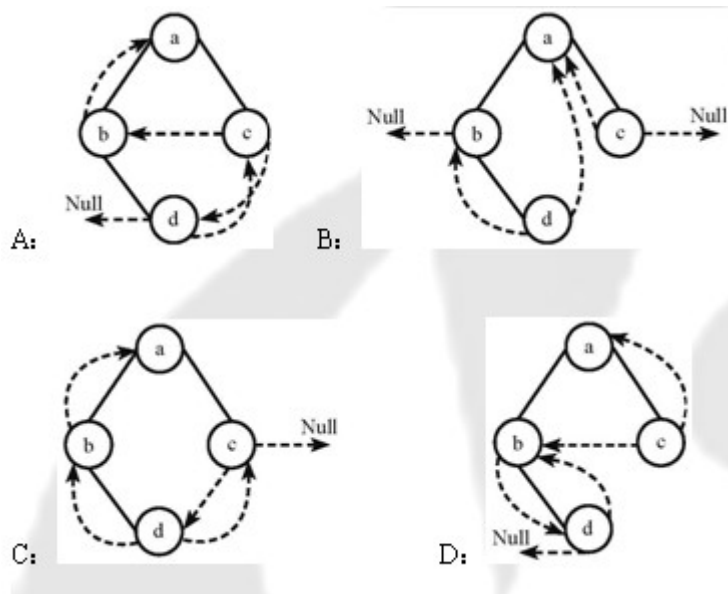
1、若元素 a,b,c,d,e,f 依次进栈, 允许进栈、退栈操作交替进行。但不允许连续三次进行退栈工作, 则不可能得到的出栈序列是 (D)

A: dcebfa B: cbdaef C: dbcaef D: afedcb

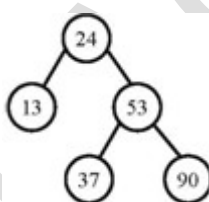
2、某队列允许在其两端进行入队操作, 但仅允许在一端进行出队操作, 则不可能得到的顺序是 (C)

A: bacde B: dbace C: dbcae D: ecbad

3、下列线索二叉树中 (用虚线表示线索), 符合后序线索树定义的是 (D)



4、在下列所示的平衡二叉树中插入关键字 48 后得到一棵新平衡二叉树，在新平衡二叉树中，关键字 37 所在结点的左、右子结点中保存的关键字分别是 (C)



A: 13, 48 B: 24, 48 C: 24, 53 D: 24, 90

5、在一棵度为 4 的树 T 中，若有 20 个度为 4 的结点，10 个度为 3 的结点，1 个度为 2 的结点，10 个度为 1 的结点，则树 T 的叶节点个数是 (B)

A: 41 B: 82 C: 113 D: 122

6、对 n (n 大于等于 2) 个权值均不相同的字符构成哈夫曼树，关于该树的叙述中，错误的是 (A)

- A: 该树一定是一棵完全二叉树
- B: 树中一定没有度为 1 的结点
- C: 树中两个权值最小的结点一定是兄弟结点
- D: 树中任一非叶结点的权值一定不小于下一任一结点的权值

7、若无向图 $G=(V,E)$ 中含 7 个顶点，则保证图 G 在任何情况下都是连通的，则需要的边数最少是 (A)

A : 6 B: 15 C: 16 D: 21

8、对下图进行拓补排序，可以得到不同的拓补序列的个数是 (B)

A: 4 B: 3 C: 2 D: 1

9、已知一个长度为 16 的顺序表 L ，其元素按关键字有序排列，若采用折半查找法查找一个不存在的元素，则比较次数最多是 (B)

A: 4 B: 5 C: 6 D: 7

10、采用递归方式对顺序表进行快速排序，下列关于递归次数的叙述中，正确的是 (D)

A: 递归次数与初始数据的排列次序无关

B: 每次划分后，先处理较长的分区可以减少递归次数

C: 每次划分后，先处理较短的分区可以减少递归次数

D: 递归次数与每次划分后得到的分区处理顺序无关

11、对一组数据 (2, 12, 16, 88, 5, 10) 进行排序，若前三趟排序结果如下 (A)

第一趟: 2, 12, 16, 5, 10, 88

第二趟: 2, 12, 5, 10, 16, 88

第三趟: 2, 5, 10, 12, 16, 88

则采用的排序方法可能是:

A: 起泡排序 B: 希尔排序 C: 归并排序 D: 基数排序

12、下列选项中，能缩短程序执行时间的措施是 (D)

I 提高 CPU 时钟频率, II 优化数据通过结构, III 对程序进行编译优化

A: 仅 I 和 II B: 仅 I 和 III C: 仅 II 和 III D: I, II, III

13、假定有 4 个整数用 8 位补码分别表示 $r_1=FEH$, $r_2=F2H$, $r_3=90H$, $r_4=F8H$, 若将运算结果存放在一个 8 位的寄存器中，则下列运算会发生溢出的是 (B)

A: r_1*r_2 B: r_2*r_3 C: r_1*r_4 D: r_2*r_4

14、假定变量 i, f, d 数据类型分别为 int, float 和 double (int 用补码表示, float 和 double 分别用 IEEE754 单精度和双精度浮点数据格式表示), 已知 $i=785, f=1.5678, d=1.5$ 若在 32 位机器中执行下列关系表达式, 则结果为真是 (B)

(I) $f=(\text{int})(\text{float})i$ (II) $f=(\text{float})(\text{int})f$ (III) $f=(\text{float})(\text{double})d$ (IV) $=(d+f)-d=f$

A: 仅 I 和 II B: 仅 I 和 III C: 仅 II 和 III D: 仅 III 和 IV

15、假定用若干个 $2k \times 4$ 位芯片组成一个 8×8 位存储器, 则地址 $0B1FH$ 所在芯片的最小地址是 (D)

A: $0000H$ B: $0600H$ C: $0700H$ D: $0800H$

16、下列有关 RAM 和 ROM 的叙述中, 正确的是 (A)

- I、RAM 是易失性存储器, ROM 是非易失性存储器
- II、RAM 和 ROM 都是采用随机存取的方式进行信息访问
- III、RAM 和 ROM 都可用作 Cache
- IV、RAM 和 ROM 都需要进行刷新

A: 仅 I 和 II B: 仅 II 和 III C: 仅 I, II, III D: 仅 II, III, IV

17、下列命令组合情况中, 一次访存过程中, 不可能发生的是 (D)

- A: TLB 未命中, Cache 未命中, Page 未命中
- B: TLB 未命中, Cache 命中, Page 命中
- C: TLB 命中, Cache 未命中, Page 命中
- D: TLB 命中, Cache 命中, Page 未命中

18、下列存储器中, 汇编语言程序员可见的是 (B)

- A: 存储器地址寄存器 (MAR) B: 程序计数器 (PC)
- C: 存储器数据寄存器 (MDR) D: 指令寄存器 (IR)

19、下列不会引起指令流水阻塞的是 (A)

- A: 数据旁路 B: 数据相关 C: 条件转移 D: 资源冲突

20、下列选项中的英文缩写均为总线标准的是 (D)

- A: PCI、CRT、USB、EISA B: ISA、CPI、VESA、EISA

C: ISA、SCSI、RAM、MIPS D: ISA、EISA、PCI、PCI-Express

21、单级中断系统中，中断服务程序执行顺序是 (D)

I、保护现场 II、开中断 III、关中断 IV、保存断点

V、中断事件处理 VI、恢复现场 VII、中断返回

A: I、V、VI、II、VII

B: III、I、V、VII

C: III、IV、V、VI、VII

D: IV、I、V、VI、VII

22、假定一台计算机的显示存储器用 DRAM 芯片实现，若要求显示分辨率为 1600*1200，颜色深度为 24 位，帧频为 85Hz，显示总带宽的 50% 用来刷新屏幕，则需要的显存总带宽至少约为 (D)

A : 245 Mbps

B: 979 Mbps

C: 1958 Mbps

D: 7834Mbps

23、下列选项中，操作 S 提供的给应用程序的接口是 (A)

A: 系统调用

B: 中断

C: 库函数

D: 原语

24、下列选项中，导致创进新进程的操作是 (C)

I 用户成功登陆 II 设备分配 III 启动程序执行

A: 仅 I 和 II

B: 仅 II 和 III

C: 仅 I 和 III

D: I, II, III

25、设与某资源相关联的信号量初值为 3，当前值为 1，若 M 表示该资源的可用个数，N 表示等待资源的进程数，则 M,N 分别是 (B)

A: 0, 1

B: 1, 0

C: 1, 2

D: 2, 0

26、下列选项中，降低进程优先权级的合理时机是 (A)

A: 进程的时间片用完

B: 进程刚完成 Z/O，进入就绪队列

C: 进程长期处于就绪队列中

D: 就绪从就绪状态转为运行态

27、进行 P0 和 P1 的共享变量定义及其初值为 (C)

boolean flag[2];

```
int turn=0;
```

```
flag[0]=faulse; flag[1]=faulse;
```

若进行 P0 和 P1 访问临界资源的类 C 代码实现如下:

```
Void p0 () // 进程 p0          Void p1 () // 进程 p1
{while (TURE) {                {while (TURE) {
Flag[0]=TURE;ture=1           Flag[1]=TURE; ture=0
    While (flag[1]&& (turn==1))    While (flag[0]&& (turn==0))
```

临界区:

```
Flag[0]=FALSE;                Flag[1]=FALSE;
}                                }
}                                }
```

则并发执行进程 P0 和 P1 时产生的情况是:

- A: 不能保证进程互斥进入临界区, 会出现“饥饿”现象
- B: 不能保证进程互斥进入临界区, 不会出现“饥饿”现象
- C: 能保证进程互斥进入临界区, 会出现“饥饿”现象
- D: 能保证进程互斥进入临界区, 不会出现“饥饿”现象

28、某基于动态分区存储管理的计算机, 其主存容量为 55mb (初试为空间), 采用最佳适配 (Best fit) 算法, 分配和释放的顺序为: 分配 15mb, 分配 30mb, 释放 15mb, 分配 8mb, 此时主存中最大空闲分区的大小是 (B)

- A: 7mb B: 9mb C: 10mb D: 15mb

29、某计算机采用二级页表的分页存储管理方式, 按字节编制, 页大小为 216 字节, 页表项大小为 2 字节, 逻辑地址结构为

页目编号	页号	页内偏移量
------	----	-------

逻辑地址空间大小为 216 页, 则表示整个逻辑地址空间的页目录表中包含表项的个数至少是 (B)

- A: 64 B: 128 C: 256 D: 512

36、若路由器 R 因为拥塞丢弃 IP 分组，则此时 R 可以向发出该 IP 分组的源主机发送的 ICMP 报文件类型是（ C ）

- A: 路由重定向
B: 目的不可达
C: 源抑制
D: 超时

37、某网络的 IP 地址为 192.168.5.0/24 采用长子网划分，子网掩码为 255.255.255.248，则该网络的最大子网个数，每个子网内的最大可分配地址个数为（ B ）

- A: 32, 8
B: 32, 6
C: 8, 32
D: 8, 30

38、下列网络设备中，能够抑制网络风暴的是（ D ）

I 中继器 II 集线器 III 网桥 IV 路由器

- A: 仅 I 和 II
B: 仅 III
C: 仅 III 和 IV
D: 仅 IV

39、主机甲和主机乙之间已建立一个 TCP 连接，TCP 最大段长度为 1000 字节，若主机甲的当前拥塞窗口为 4000 字节，在主机甲向主机乙连接发送 2 个最大段后，成功收到主机乙发送的第一段的确认段，确认段中通告的接收窗口大小为 2000 字节，则此时主机甲还可以向主机乙发送的最大字节数是（ A ）

- A: 1000
B: 2000
C: 3000
D: 4000

40、如果本地域名服务无缓存，当采用递归方法解析另一网络某主机域名时，用户主机本地域名服务器发送的域名请求条数分别为（ A ）

- A: 1 条, 1 条
B: 1 条, 多条
C: 多条, 1 条
D: 多条, 多条

选择题答案解析:

1.

【正确选项】 D

【解析】 本题考查栈的基本概念。

快速解题：选项所给序列中出现长度大于等于 3 的连续逆序子序列，即为不符合要求的出栈序列。

四个选项所给序列的进出栈操作序列分别为：

- A. Push, Push, Push, Push, Pop, Pop, Push, Pop, Pop, Push, Pop, Pop;
- B. Push, Push, Push, Pop, Pop, Push, Pop, Pop, Push, Pop, Push, Pop;
- C. Push, Push, Pop, Push, Pop, Pop, Push, Push, Pop, Push, Pop, Pop;
- D. Push, Pop, Push, Push, Push, Push, Push, Pop, Pop, Pop, Pop, Pop;

按照题设要求，选项 D 所给序列即为不可能得到的出栈顺序。

2.

【正确选项】 C

【解析】 本题考查队列的基本概念。

快速解题：无论哪种入队序列，a 和 b 都应该相邻，这是出队序列合理的必要条件。只有选项 C 所给序列中 a 与 b 不相邻，可以确定正确选项为 C。

四个选项所给序列的进队操作序列分别为（L 代表左入，R 代表右入）：

- A. aL(或 aR), bL, cR, dR, eR
- B. aL(或 aR), bL, cR, dL, eR
- C. 不可能出现
- D. aL(或 aR), bL, cR, dR, eL

3.

【正确选项】 D

【解析】 本题考查线索二叉树的基本概念和构造。

线索二叉树利用二叉链表的空链域来存放结点的前驱和后继信息。题中所给二叉树的后序序列为 dbca。结点 d 无前驱和左子树，左链域空，无右子树，右链域指向其后继结点 b；结点 b 无左子树，左链域指向其前驱结点 d；结点 c 无左子树，左链域指向其前驱结点 b，无右子树，右链域指向其后继结点 a。正确选项为 D。

4.

【正确选项】 C

【解析】本题考查平衡二叉树。

插入 48 以后，该二叉树根结点的平衡因子由-1 变为-2，失去平衡，需进行两次旋转（先右旋后左旋）操作，如下所示：（图略）

5.

【正确选项】 B

【解析】本题考查树的基本概念

设树中度为 i ($i=0, 1, 2, 3, 4$) 的结点数分别为 N_i ，树中结点总数为 N ，则树中各结点的度之和等于 $N-1$ ，即 $N = 1+N_1+2N_2+3N_3+4N_4 = N_0+N_1+N_2+N_3+N_4$ ，根据题设中的数据，即可得到 $N_0 = 82$ ，即树 T 的叶结点的个数是 82。

6.

【正确选项】 A

【解析】本题考查哈夫曼树。

哈夫曼树为带权路径长度最小的二叉树，不一定是完全二叉树。哈夫曼树中没有度为 1 的结点，B 正确；构造哈夫曼树时，最先选取两个权值最小的结点作为左右子树构造一棵新的二叉树，C 正确；哈夫曼树中任一非叶结点 P 的权值为其左右子树根结点权值之和，其权值不小于其左右子树根结点的权值，在与结点 P 的左右子树根结点处于同一层的结点中，若存在权值大于结点 P 权值的结点 Q ，那么结点 Q 与其兄弟结点中权值较小的一个应该与结点 P 作为左右子树构造新的二叉树，综上所述可知，哈夫曼树中任一非叶结点的权值一定不小于下一层任一结点的权值。

7.

【正确选项】 C

【解析】本题考查图的基本概念。

要保证无向图 G 在任何情况下都是连通的，即任意变动图 G 中的边， G 始终保持连通，首先需要 G 的任意六个结点构成完全连通子图 G_1 ，需 15 条边，然后再添一条边将第 7 个结点与 G_1 连接起来，共需 16 条边。

8.

【正确选项】 B

【解析】本题考查拓扑排序。

拓扑排序的步骤为：（1）在有向图中选一个没有前驱的顶点并且输出之；（2）从图中删除该顶点和所以以它为尾的弧。重复上述两步，直至全部顶点均已输出。由于没有前驱的顶点可能不唯一，所以拓扑排序的结果也不唯一。

题中所给图有三个不同的拓扑排序序列，分别为 $abcd$ ， $abecd$ ， $aebcd$ 。

9.

【正确选项】 B

【解析】 本题考查折半查找法。

折半查找法在查找不成功时和给定值进行比较的关键字个数最多为 $\lceil \log_2 n \rceil + 1$ ，在本题中， $n=16$ ，故比较次数最多为 5。

10. 【正确选项】 C

【解析】 本题考查快速排序。详细解答请看 24 楼靖难给出的解释。王道论坛-数据结构版面之前有人提过这个问题。

11. 【正确选项】 A

【解析】 本题考查起泡排序。

12. 【正确选项】 D

【解析】 本题考查计算机性能指标。

I.

CPU 的时钟频率，也就是 CPU 主频率，一般说来，一个时钟周期内完成的指令数是固定的，所以主频越高，CPU 的速度也就快，程序的执行时间就越短。

II.

数字系统中，各个子系统通过数据总线连接形成的数据传送路径称为数据通路。优化数据通路结构，可以有效提高计算机系统的吞吐量，从而加快程序的执行。

III.

计算机程序需要先转化成机器指令序列才能最终得到执行，编译优化得到更优的指令序列，从而使得程序的执行时间也越短。

13. 【正确选项】 B

【解析】 本题考查定点数的运算。

用补码表示时 8 位寄存器所能表示的整数范围为 $-128 \sim +127$ 。 $r_1 = -2$ ， $r_2 = -7$ ， $r_3 = -112$ ， $r_4 = -8$ ， $r_2 \times r_3 = 784$ ，结果溢出。

14. 【正确选项】 B

【解析】 本题考查数据的表示与运算。

15. 【正确选项】 D

【解析】 本题考查存储器的组成和设计。

用 $2K \times 4$ 位的芯片组成一个 $8K \times 8$ 位存储器，每行中所需芯片数为 2，每列中所需芯片数为 4，各行芯片的地址分配为：

第一行（2 个芯片并联） 0000H~07FFH

第二行（2 个芯片并联） 0800H~0FFFH

第三行（2 个芯片并联） 1000H~17FFH

第四行（2 个芯片并联） 1800H~1FFFH

于是地址 0B1FH 所在芯片的最小地址即为 1800H，正确选项为 D。

16. 【正确选项】 A

【解析】 本题考查半导体随机存取存储器。

17. 【正确选项】 D

【解析】 本题考查 Cache 和 TLB（快表）。

Cache 中存放的是主存快的副本，Cache 命中，主存必然命中；TLB 中存放的是页表的副本，TLB 命中，主存也必然命中。因此不可能发生的是 D。

18. 【正确选项】 B

【解析】 本题考查 CPU 的基本结构。

汇编程序员可以通过指定待执行指令的地址来设置 PC 的值，而 IR，MAR，MDR 是 CPU 的内部工作寄存器，对程序员不可见。

19. 【正确选项】 A

【解析】 本题考查指令流水线的基本概念。

有三种相关可能引起指令流水线阻塞：1. 结构相关，又称资源相关；2. 数据相关；3. 控制相关，主要由转移指令引起。

数据旁路技术，又称为定向技术或相关专用通路技术。其只要思想是不必待某条指令的执行结果送回到寄存器后，再从寄存器中取出该结果，作为下一条指令的源操作数，而是直接将执行结果送到其他指令所需要的地方，这样可以使流水线不发生停顿。

20. 【正确选项】 D

【解析】 本题考查总线标准。

21. 【正确选项】 A

【解析】 本题考查中断处理过程。

单级中断系统中，不允许中断嵌套。中断的处理过程为：1. 关中断；2. 保存断点；3. 识别中断源；4. 保存现场；5. 中断事件处理；6. 恢复现场；7. 开中断；8. 中断返回。其中，1~3 步由硬件完成，4~8 由中断服务程序完成，正确选项为 A。

22. 【正确选项】 D

【解析】 本题考查显示器相关概念。

刷新所需带宽 = 分辨率 × 色深 × 帧频 = $1600 \times 1200 \times 24b \times 85\text{HZ} = 3916.8\text{Mbps}$ ，显存总带宽的 50% 用来刷屏，于是需要的显存总带宽为 $3916.8/0.5 = 7833.6\text{Mbps} \approx 7834\text{Mbps}$ 。

23. 【正确选项】 A

【解析】 本题考查操作系统提供的服务。

24. 【正确选项】 C

【解析】 本题考查进程控制和设备管理。

I.

用户登录成功。在分时系统中，用户登录成功，系统将为终端建立一个进程。

II.

设备分配。设备分配是通过在系统中设置相应的数据结构实现的，不需要创建进程。

III.

启动程序执行。典型的引起创建进程的事件。

25. 【正确选项】 B

【解析】 本题考查信号量。

26. 【正确选项】 A

【解析】 本题考查处理机调度。

27. 【正确选项】 C

【解析】 本题考查进程间通信与 Peterson 算法。

分析进程的执行过程：一开始，没有进程处于临界区中，现在进程 P0 开始执行，通过设置其数组元素和将 turn 置 1 来标识它希望进入临界区，由于进程 P1 并不想进入临界区，所以 P0 跳出 while 循环，进入临界区。如果进程 P1 现在开始执行，进程 P1 将阻塞在 while 循环直到 flag[0] 变为 false，而该事件只有进程 P0 退出临界区时才会发生。

现在考虑两个进程几乎同时执行到 while 循环的情况，它们分别在 turn 中存入 1 和 0，但只有后被保存进去的进程号才有效，前一个被重写而丢失。假设进程 P1 是后存入的，则 turn 为 0。进程 P0 将循环 0 次而进入临界区，而进程 P1 则将不停地循环且不能进入临界区，直到进程退出临界区为止。

因此，该算法实现了临界区互斥。但该算法实现的是忙等待的互斥，有可能出现“饥饿”现象。

28. 【正确选项】 B

【解析】 本题考查动态分区存储管理。

采用最佳适配算法：

分配 15MB 后，空闲链表各分区的大小为：30MB；

分配 30MB 后，空闲链表各分区的大小为：10MB；

释放 15MB 后，空闲链表各分区的大小为：10MB，15MB；

分配 8MB 后，空闲链表各分区的大小为：2MB，15MB；

分配 6MB 后，空闲链表各分区的大小为：2MB，9MB，

于是，此时主存中最大空闲分区大小是 9MB。

29. 【正确选项】 B

【解析】 本题考查分页存储管理。

页大小为 2^{10} 字节，页表项大小为 2 字节，采用二级页表，一页可存放 2^9 个页表项，逻辑地址空间大小为 2^{16} 页，要使表示整个逻辑地址空间的页目录表中包含的个数最少，则需要 $2^{16}/2^7$

$= 2^7 = 128$ 个页面保存页表项，即页目录表中包含的个数最少为 128。

30. 【正确选项】 C

【解析】 本题考查文件的混合索引分配方式。

可表示的单个文件的最大长度为 $4 \times 256B + 2 \times (256/4) \times 256B + 1 \times (256/4) \times (256/4) \times 256 = 1057KB$ 。

31. 【正确选项】 C

【解析】 本题考查文件目录。

32. 【正确选项】 B

【解析】 本题考查输入管理。

参考唐硕飞《计算机组成原理（第2版）》P168。

33. 【正确选项】 C

【解析】 本题考查计算机网络体系结构的基本概念。

34. 【正确选项】 C

【解析】 本题考查存储转发机制。

由题设可知，分组携带的数据长度为 980B，文件长度为 980000B，需拆分为 1000 个分组，加上头部后，每个分组大小为 1000B，总共需要传送的数据量大小为 1MB。由于所有链路的数据传输速度相同，因此文件传输经过最短路径时所需时间最少，最短路径经过分组交换机。

当 $t = 1M \times 8 / 100Mbps = 80ms$ 时，H1 发送完最后一个 bit；

到达目的地，最后一个分组，需经过 2 个分组交换机的转发，每次转发的时间为

$t_0 = 1K \times 8 / 100Mbps = 0.08ms$ ，

所以，在不考虑分组拆装时间和传播延时的情况下，当 $t = 80ms + 2t_0$

$= 80.16ms$ 时，H2 接受完文件，即所需的时间至少为 80.16ms。

35. 【正确选项】 D

【解析】 本题考查 RIP 路由协议。

RIP 允许一条路径最多只能包含 15 个路由器，因此距离等于 16 时相当于不可达。

36. 【正确选项】 C

【解析】 本题考查 ICMP 协议。

当路由器或主机由于拥塞而丢弃数据报时，就向源点发送源点抑制报文，使源点知道应当把数据报的发送速率放慢，正确选项为 C。

37. 【正确选项】 B

【解析】本题考查子网划分与子网掩码、CIDR。

子网号为 5 位，在 CIDR 中可以表示 $2^5=32$ 个子网，主机号为 3 位，出去全 0 和全 1 的情况可以表示 6 个主机地址。

38. 【正确选项】 D

【解析】本题考查网络设备与网络风暴。

中继器和集线器工作在物理层，不能抑制网络风暴。

为了解决冲突域的问题，提高共享介质的利用率，人们利用网桥和交换机来分隔互联网的各个网段中的通信量，建立多个分离的冲突域。但是，当网桥和交换机接收到一个未知转发信息的数据帧时，为了保证该帧能被目的结点正确接收，将该帧从所有的端口广播出去。于是可以看出，网桥和交换机的冲突域等于端口的个数，广播域为 1。因此网桥不能抑制网络风暴。

39. 【正确选项】 A

【解析】本题考查 TCP 流量控制与拥塞控制。

发送方的发送窗口的上限值应该取接收方窗口和拥塞窗口这两个值中较小的一个，于是此时发送方的发送窗口为 $\text{MIN}\{4000, 2000\}=2000$ 字节，由于发送方还没有收到第二个最大段的确认，所以此时主机甲还可以向主机乙发送的最大字节数为 $2000-1000=1000$ 字节，正确选项为 A。

40. 【正确选项】 A

【解析】本题考查 DNS 系统域名解析过程。

所谓递归查询方式就是：如果主机所询问的本地域名服务器不知道被查询域名的 IP 地址，那么本地域名服务器就以 DNS 客户的身份，向其他服务器继续发出查询请求报文，而不是让该主机自己进行下一步的查询。所以主机只需向本地域名服务器发送一条域名请求，采用递归查询方法，本地域名服务器也只需向上一级的根域名服务器发送一条域名请求，然后依次递归。参考《计算机网络——自顶向下方法与 Internet 特色（第三版 影印版）》P131。正确选项为 A。

二、综合应用题：41-47 小题，共计 70 分

41. (10 分) 将关键字序列 (7、8、11、18、9、14) 散列存储到散列列表中, 散列表的存储空间是一个下标从 0 开始的一个一维数组散列函数为: $H(\text{key}) = (\text{key} \times 3) \text{MOD} 10$, 处理冲突采用线性探测再散列法, 要求装填 (载) 因子为 0.7

问题:

- (1) 请画出所构造的散列表;
- (2) 分别计算等概率情况下, 查找成功和查找不成功的平均查找长度。

解答:

- (1) 由装载因子 0.7, 数据总数 7 个 \rightarrow 存储空间长度为 10 $\rightarrow P=10$

所以, 构造的散列表为:

0	1	2	3	4	5	6	7	8	9
30	7	14	11	8	18	.	9	.	.

$$H(7) = (7 \times 3) \text{MOD} 10 = 1$$

- (2) 查找成功的 $ASL = (1+1+1+1+2+1+1)/7 = 8/7$

$$\text{查找不成功的 } ASL = (7+6+5+4+3+2+1+2+1+1)/10 = 3.2$$

42. (13 分) 设将 $n(n, 1)$ 个整数存放于一维数组 R 中, 试设计一个在时间和空间两方面尽可能有效的算法, 将 R 中保有的序列循环左移 P ($0 < P < n$) 个位置, 即将 R 中的数据由 $(X_0 X_1 \dots X_{n-1})$ 变换为 $(X_p X_{p+1} \dots X_{n-1} X_0 X_1 \dots X_{p-1})$ 要求:

- (1) 给出算法的基本设计思想。
- (2) 根据设计思想, 采用 C 或 C++ 或 JAVA 语言表述算法, 关键之处给出注释。
- (3) 说明你所设计算法的时间复杂度和空间复杂度

解答:

(1) 前 P 个数依次进队, while ($1 < n-p$) $A\{i\}-\{i+p\}$: p 个数依次出队, 进入数组末尾

(2) 详细程序略

(3) 时间复杂度 $O(N)$; 空间复杂度 $O(p)$

(逗号前原操作数,逗号后为目的操作数)对应的机器码是什么(用十六进制表示)?

该指令执行后,哪些寄存器和存储单元的内容会改变?改变后的内容是什么?

解答:

该题的考点是指令系统设计,注意操作位数与指令条数的关系,地址码与寄存器数的关系,指令字长与 MOR 的关系,存储容量与 MAR 的关系,注意补码计算的偏移地址。

44. (12分) 某计算机的主存地址空间为 256MB,按字节编址,指令 Cache 分离均有 8 个 Cache 行,每个 Cache 行的大小为 64MB,数据 Cache 采用直接映射方式,现有两个功能相同的程序 A 和 B,其伪代码如下所示:

程序 A:

```

Int a [ 256 ] [ 256 ].....
Int sum..array1()
{int i,j,Sum=0,
for(i=0;i<256;i++)
for(j=0;j<256;j++)
    Sum+=a[i][j];
Return sum;
}
    
```

程序 B:

```

Int a [ 256 ] [ 256 ].....
Int sum..array2()
{int i,j,Sum=0,
for(j=0;j<256;j++)
for(i=0;i<256;i++)
    Sum+=a[i][j];
Return sum;
}
    
```

假定 int 类型数据用 32 位补码表示,程序编译时 i,j,sum 均分配在寄存器中,数据 a 按行优先方式存放,其地址为 320 (十进制数),请回答下列问题,要求说明理由或给出计算过程。

(1)、若不考虑用于 cache 一致性维护和替换算法的控制位,则数据 Cache 的总容量是多少?

(2)、要组元素 $a[0][31]$ 和 $a[1][1]$ 各自所在的主存块对应的 Cache 行号分别是多少 (Cache 行号从 0 开始) ?

(3)、程序 A 和 B 的数据访问命令中各是多少? 那个程序的执行时间更短?

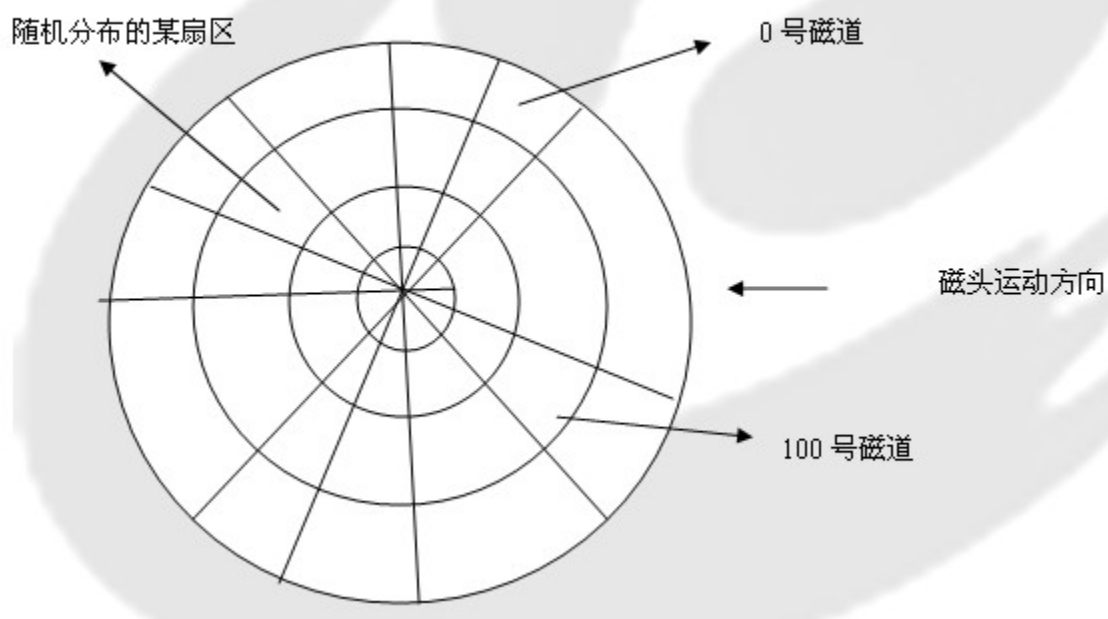
简答: 考点: Cache 容量计算, 直接映射方式的地址计算, 以及命中率计算 (行优先遍历与列优先遍历命中率分别很大)

45、(7 分) 假设计算机系统采用 CSCAN (循环扫描) 磁盘调度策略, 使用 2KB 的内存空间记录 16384 个磁盘块的空间状态

(1)、请说明在上述条件下如何进行磁盘块空闲状态管理。

(2)、设某单面磁盘旋转速度为每分钟 6000 转。每个磁道有 100 个扇区, 相邻磁道间的平均移动时间为 1ms.

若在某时刻, 磁头位于 100 号磁道处, 并沿着磁道号大的方向移动 (如下图所示), 磁道号请求队列为 50.90.30.120.对请求队列中的每个磁道需读取 1 个随机分布的扇区, 则读完这个扇区点共需要多少时间? 要求给出计算过程。



46. (8 分) 设某计算机的逻辑地址空间和物理地址空间均为 64KB.按字节编址。若某进程最多需要 6 页 (Page) 数据存储空间, 页的大小为 1KB.操作系统采用固定分配局部置换策略为此进程分配 4 个页框 (Page Fame) .

页号	页根号	装入时刻	访问位
0	7	130	1
1	4	230	1
2	2	200	1
3	9	160	1

当该进程执行到时刻 260 时, 要访问逻辑地址为 17CAH 的数据, 请问答下列问题:

(1)、该逻辑地址对应的页号是多少?

(2)、若采用先进先出 (FIFO) 置换算法, 该逻辑地址对应的物理地址是多少? 要求给出计算过程。

(3)、若采用时钟 (CLOCK) 置换算法, 该逻辑地址对应的物理地址是多少? 要求给出计算过程。(设搜索下一页的指针沿顺时针方向移动, 且当前指向 2 号页框, 示意图如下。)



解答: $17CAH = (0001\ 0111\ 1100\ 1010)_2$

(1) 页大小为 1K, 所以页内偏移地址为 10 位, 于是前 6 位是页号, 所以第一问的解为: 5

(2) FIFO, 则被置换的页面所在页框为 7, 所以对应的物理地址为 $(0001\ 1111\ 1100\ 1010)_2 = 1FCAH$

(3) CLOCK, 则被置换的页面所在页框为 2, 所以对应的物理地址为 $(0000\ 1011\ 1100\ 1010)_2 = 0BCAH$

47、(9 分)某局域网采用 CSMA/CD 协议实现介质访问控制, 数据传输速率为 10MBPS, 主机甲和主机乙之间的距离为 2KM, 信号传播速度是 200 000KMS. 请回答下列问题, 并给出计算过程。

(1) 若主机甲和主机乙发送数据时发生冲突，则从开始发送数据时刻起，到两台主机均检测到冲突时刻止，最短需经多长时间？最长需经过多长时间？（假设主机甲和主机乙发送数据过程中，其他主机不发送数据）

(2) 若网络不存在任何冲突与差错，主机甲总是以标准的最长以太网数据帧（1518 字节）向主机乙发送数据，主机乙每成功收到一个数据帧后，立即发送下一个数据帧，此时主机甲的有效数据传输速率是多少？（不考虑以太网帧的前导码）

解答：

(1) 当甲乙同时向对方发送数据时，两台主机均检测到冲突所需时间最短；

$$1\text{KM}/200000\text{KM/S} \times 2 = 1 \times 10^{-5}\text{S}$$

当一方发送的数据马上要到达另一方时，另一方开始发送数据，两台主机均检测到冲突所需时间最长；

$$2\text{KM}/200000\text{KM/S} \times 2 = 2 \times 10^{-5}\text{S}$$

(2) 发送一帧所需时间： $1518\text{B}/10\text{MBPS} = 1.2144\text{MS}$

数据传播时间： $2\text{KM}/200\ 000\text{KM/S} = 1 \times 10^{-5}\text{S} = 0.01\text{MS}$

有效的数据传输速率 = $10\text{MBPS} \times 1.2144\text{MS} / 1.2244\text{MS} = 9.92\text{MBPS}$